

Brasil, país onde você vive

Roteiro de Atividades



Ministério da Educação e Cultura
Fundação Movimento Brasileiro de Alfabetização — MOBRAF

PRESIDENTE DA REPÚBLICA
Ernesto Geisel

MINISTRO DA EDUCAÇÃO E CULTURA
Ney Braga

PRESIDENTE DO MOBRAL
Arlindo Lopes Corrêa

SECRETÁRIO EXECUTIVO DO MOBRAL
Sérgio Marinho Barbosa

SECRETÁRIO EXECUTIVO ADJUNTO DO MOBRAL
Maurício Alves dos Santos

Ministério da Educação e Cultura
Fundação Movimento Brasileiro de Alfabetização

MOBIL BIBLIOTECA

358

BRASIL, país onde você vive

RIO DE JANEIRO
1977

FICHA CATALOGRÁFICA

(Preparada pela Fundação Movimento Brasileiro de Alfabetização. CETEP/SEDOC.)

F981b Fundação Movimento Brasileiro de Alfabetização.
Brasil, país onde você vive. Rio de Janeiro, 1977.
65 p. ilustr. 27 cm.

1. Brasil-Descrições e viagens.
I. Título.

77-36

cdd:918.1
cdu:918.1

RECADO

Você já deve saber muitas coisas sobre o lugar em que mora.

Seja qual for esse lugar ___ pequeno ou grande ___ ele está no BRASIL, um país enorme, de terras bonitas, com cerca de cem milhões de pessoas que falam a mesma língua e têm o mesmo governo.

Nesse Roteiro você vai conhecer mais sobre o

BRASIL, o país onde você vive.

- sua localização no mundo
- por que é um país tropical
- como está dividido
- como ele é
- quem cuida dele

Ao ler esse Roteiro, você observará algumas palavras em negrito. Veja na página 55, onde encontrar o significado delas, no livro Para Sua Informação.

ONDE ESTÁ O BRASIL?

Para você conhecer um lugar, precisa saber onde ele está e como ele é.

Os mapas ajudam você.

Eles mostram onde estão os lugares porque são desenhos de uma parte da Terra ou da Terra toda.

A Terra é o mundo em que vivemos. Ela é muito grande e mais ou menos redonda.



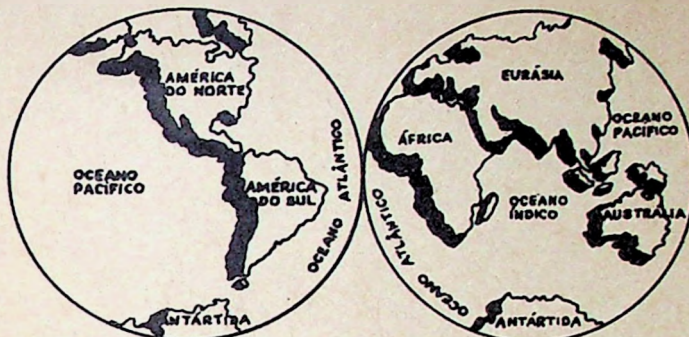
Veja o lado da Terra em que fica o Brasil.

Existem, na Terra, partes com água e outras com terra.

A maior parte da superfície da Terra é ocupada pelas águas. Dessas, as grandes quantidades de água salgada são chamadas **oceanos**.

As grande partes de terra que aparecem entre os oceanos são chamadas **continentes**.

Observe o mapa. Ele mostra os dois lados da Terra. Procure nele os oceanos e continentes que formam o nosso mundo.



Você reparou que a grande quantidade de água que existe na Terra recebe três nomes:

- Oceano Pacífico
- Oceano Atlântico
- Oceano Índico

Esses oceanos separam os seis continentes, que são:

- América do Norte
- América do Sul
- Eurásia (Europa e Ásia)
- África
- Austrália
- Antártida

O Brasil está situado na América do Sul.

Ele é um dos maiores países do mundo. Ocupa 8.511.965 quilômetros quadrados de área.

Os mapas também ajudam você a comparar o tamanho dos lugares.

Repare no mapa da América do Sul.



O Brasil é o maior país sul-americano.

Ele tem à sua volta o mar e outros países.

Esses países são chamados países vizinhos, pois suas terras encontram-se com as terras brasileiras, isto é, fazem fronteira com nosso país.

Veja no mapa e responda:

Quais são os países vizinhos do Brasil? _____

Que oceano banha o nosso país? _____

Confira as suas respostas na página 50 desse Roteiro.

BRASIL — UM PAÍS TROPICAL

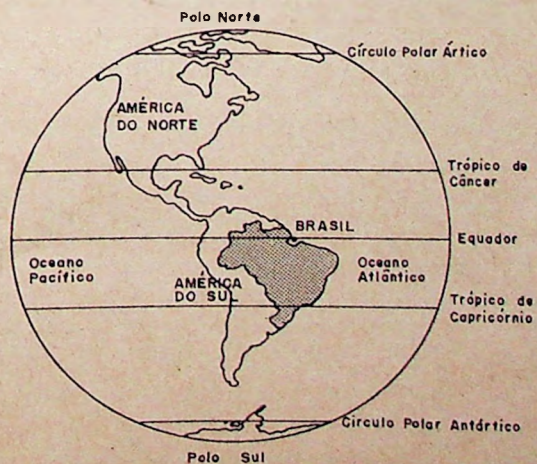


Você já deve até ter cantado essa música.

Mas você sabe por que o Brasil é um país tropical?

Observe, no mapa, a localização do Brasil na Terra.

A maior parte das nossas terras está entre os trópicos.



Devido a essa localização na Terra, nosso país recebe intensamente a luz do sol. Com exceção da parte sul, as demais áreas brasileiras são muito aquecidas durante a maior parte do ano. Temos, então, uma terra de clima quente.

Mas, o Brasil tem, também, um clima muito úmido. Isso porque chove durante quase todo o ano. As chuvas caem na estação quente (verão), diminuindo na estação fria (inverno).

Os climas quentes e úmidos permitem a existência de florestas.

Temos, em nosso país, várias florestas. É natural que um país tropical, tão cheio de florestas, possua muitos produtos que podem ser tirados da natureza. O látex (para preparar a borracha), a castanha-do-pará, a erva-mate, a carnaúba e o babaçu são alguns desses produtos.

Além disso, muitas plantas úteis se dão bem em climas tropicais. Por isso, em nosso país, cultivamos café, algodão, milho, arroz, cana-de-açúcar, cacau, tabaco, mandioca.

No lugar em que você mora, existe alguns desses produtos que podem ser retirados da própria natureza?

O que se planta nesse lugar? _____

Que outras coisas você acha que poderiam ser plantadas? _____

Você já sabe que nosso país tem um clima quente e úmido, isto é, com chuvas.

Corno a quantidade de chuva caída anualmente é muito grande, a maioria dos nossos rios apresenta um grande volume de água.



É nossos rios são importantes porque:

- possuem variedades de peixes utilizados em nossa alimentação;
- **irrigam** as plantações;
- servem à navegação, transformando-se em estradas para as embarcações;
- fornecem energia que o homem aproveita, através das usinas hidrelétricas, para o progresso do país.


O clima tropical influi nos hábitos dos brasileiros.

O nosso clima exige roupas leves, arejadas, diferentes das roupas dos europeus e norte-americanos que têm em seus países um clima mais frio.

A alimentação também não deve ser tão gordurosa como a dos povos que vivem em países frios.

No Brasil, o frio se estende por pouco tempo. Somente para o sul é que temos frio mais intenso. Porém, não chega a prejudicar a vida das cidades, como acontece em alguns países em que os trabalhos têm de ser interrompidos durante os meses de inverno, por causa da neve.

No Brasil



Na Europa

ONDE MORA A POPULAÇÃO BRASILEIRA?

As cem milhões de pessoas que moram em nosso país estão espalhadas pelos Estados, Territórios e Distrito Federal.

Cada Estado ou Território tem uma capital, que é a sede do governo.

A capital é a cidade mais importante do Estado ou Território, pois nela ficam o Governador e os Secretários que o ajudam a governar.

O Distrito Federal é a sede do governo brasileiro. Brasília — a cidade capital do Brasil — fica no Distrito Federal.

De lá, o Presidente da República, os Ministros e seus auxiliares dirigem todo o país.

Observe o mapa. Nele você pode localizar os 21 Estados brasileiros, os 4 Territórios e o Distrito Federal.



Confira no mapa:

DIVISÃO POLÍTICA DO BRASIL

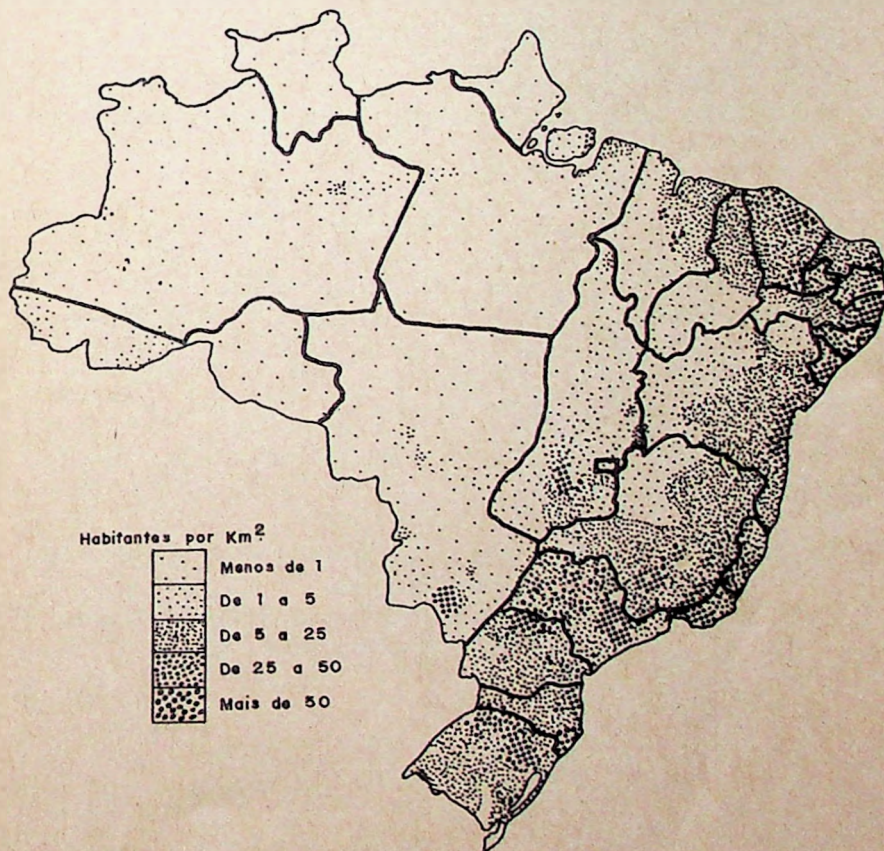
ESTADOS	CAPITAL
<ol style="list-style-type: none">1. Acre2. Amazonas3. Pará4. Maranhão5. Piauí6. Ceará7. Rio Grande do Norte8. Paraíba9. Pernambuco10. Alagoas11. Sergipe12. Bahia13. Minas Gerais14. Espírito Santo15. Rio de Janeiro16. São Paulo17. Paraná18. Santa Catarina19. Rio Grande do Sul20. Mato Grosso21. Goiás	<p>Rio Branco Manaus Belém São Luís Teresina Fortaleza Natal João Pessoa Recife Maceió Aracaju Salvador Belo Horizonte Vitória Rio de Janeiro São Paulo Curitiba Florianópolis Porto Alegre Cuiabá Goiânia</p>
TERRITÓRIOS	CAPITAL
<ol style="list-style-type: none">1. Rondônia2. Roraima3. Amapá4. Fernando de Noronha	<p>Porto Velho Boa Vista Macapá</p>
DISTRITO FEDERAL (Brasília)	
<ol style="list-style-type: none">1. Distrito Federal	Brasília

Muitos Estados e Territórios são banhados pelo mar. Eles têm **litoral** e, por isso, são chamados de Estados ou Territórios marítimos ou litorâneos.

Outros Estados e Territórios não são banhados pelo mar. Estão no interior do Brasil. Por isso, são chamados Estados ou Territórios centrais.

Esse mapa mostra onde vivem as pessoas no Brasil.

Repare e diga: onde moram mais brasileiros — no litoral ou no interior?



Desde o início da vida do Brasil, as pessoas ocuparam o litoral. Aí ficaram por muito tempo.

O litoral trazia vantagem por comunicar-se mais facilmente com outras terras e outros povos através da navegação.

Aos poucos, as pessoas buscaram o interior.

Mesmo assim, no interior, ainda não moram tantas pessoas quanto no litoral.

O governo tem incentivado a possibilidade das pessoas ocuparem qualquer região brasileira com igual facilidade. Transferiu a sede do governo brasileiro — a sua capital — de uma cidade litorânea (Rio de Janeiro) para uma localidade bem central (Brasília). E, ainda, construiu e está construindo estradas que permitirão a comunicação entre os Estados centrais e litorâneos.

Você já pode localizar seu Estado ou Território no mapa do Brasil.

Você mora num Estado central ou litorâneo?

De que maneiras você pode comunicar-se com outros Estados ou Territórios?

Podemos encontrar informações sobre um mesmo assunto em livros diferentes: livros que a gente tem, livros do Posto Cultural.

Por isso, no final desse Roteiro, você encontrará a indicação de outras leituras.

Verifique nas páginas 54 a 59 o que você poderá ler sobre o que você estudou até agora nesse Roteiro.

Muitos rios despejam suas águas no rio Amazonas. Esses rios são os **afluentes** do Amazonas.

As terras banhadas pelo rio Amazonas e seus afluentes formam a **Bacia Amazônica**.

Volte à página 9 e observe, no mapa, como é grande a Bacia Amazônica.

Muitas cidades da Região Norte ficam situadas nas margens dos rios, porque os rios são as únicas vias de transporte. Neles existem peixes para a alimentação e a terra à sua volta é rica para a agricultura.

A agricultura na Região Norte é pouco desenvolvida. As famílias, para o seu próprio sustento, cultivam suas pequenas roças: o feijão, o arroz, o milho, a mandioca. Sobrando um pouco da colheita, os produtos são vendidos nas cidades próximas.


Os agricultores preferem as terras junto aos rios, porque as enchentes renovam a fertilidade da terra.

Outro tipo de agricultura é praticada pelos japoneses. Eles plantam especialmente a pimenta e a juta.

A juta produz uma fibra própria para tecer. Os fios de juta são usados para fazer sacos e embalagens, tapetes, cordas etc.

A principal produção industrial da Região Norte é a borracha, por causa das **seringueiras** que existem na floresta.

Seringueira é a árvore de onde se tira o **látex**, substância utilizada para a fabricação da borracha.



Os seringueiros trabalham, recolhendo o **látex** que escorre das árvores em pequenas tigelinhas.

Pense: Que objetos feitos de borracha você conhece?

Verifique alguns deles na página 50 desse Roteiro.

A criação de gado, isto é, a pecuária, é muito praticada na região. Porém, para o tamanho da área, os animais são poucos. Além dos bois, são também criados búfalos na ilha de Marajó — a maior ilha brasileira.

Uma das riquezas da Região Norte são os minérios. No seu solo, são encontrados o ferro, o manganês, o estanho, muito úteis para a indústria.

Apesar de ser a maior região brasileira, a Região Norte é pouco povoada.

Os primeiros a habitar essas terras foram os índios. Hoje em dia, alguns deles ainda moram em aldeias e vivem da roça, da caça e pesca.



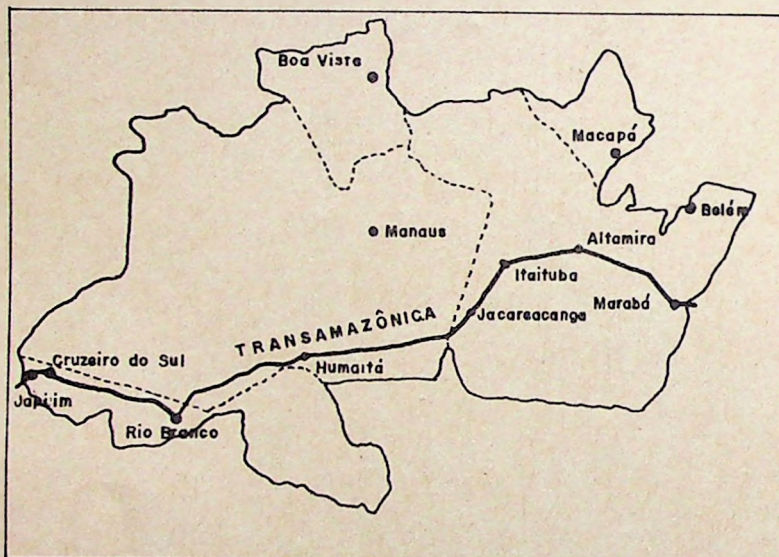
Muitos caboclos também moram na Região Amazônica. São descendentes de índios e brancos. Geralmente vivem às margens dos rios, em casas flutuantes, ou sobre estacas, para proteger-se das enchentes.

Existem, na região, cidades grandes como Manaus, Belém e outras, onde moram mais pessoas.

Manaus, capital do Amazonas, cresceu por causa da borracha. Tem o principal porto da Região Norte, que fica situado no rio Negro — afluente do rio Amazonas.

Belém, capital do Pará, se desenvolveu por causa do comércio. É uma cidade litorânea.

Com a construção da estrada Transamazônica, estrada que vindo do Nordeste, atravessará a Região Amazônica, muitos povoados estão se formando na região, e pessoas mudam-se para lá, a fim de explorar as riquezas do solo.



A construção da Transamazônica é uma das obras que vem sendo realizada pelo governo para desenvolver a Região Norte.

Além disso, o Governo Federal através da Superintendência do Desenvolvimento da Amazônia (SUDAM) ajuda o governo de cada Estado e Território a solucionar os problemas encontrados na região.

Você já sabia que a Transamazônica está sendo construída?
Que benefícios poderá trazer essa estrada para a Região Norte do Brasil?
Procure informar-se e troque idéias sobre esse assunto com seus amigos.


.....

Você sabia que . . .

- nos rios da Amazônia encontra-se a vitória-régia, uma planta aquática de folhas arredondadas de quase 2 metros de diâmetro?



- na Amazônia, as pequenas canoas feitas com tronco de árvore chamam-se montaria?
- o guaraná é fabricado com sementes de uma planta cultivada pelos índios da Amazônia?
- na ilha de Marajó, os índios desenvolveram a arte de fabricar objetos com barro cozido (a cerâmica marajoara), famosa até hoje?



.....

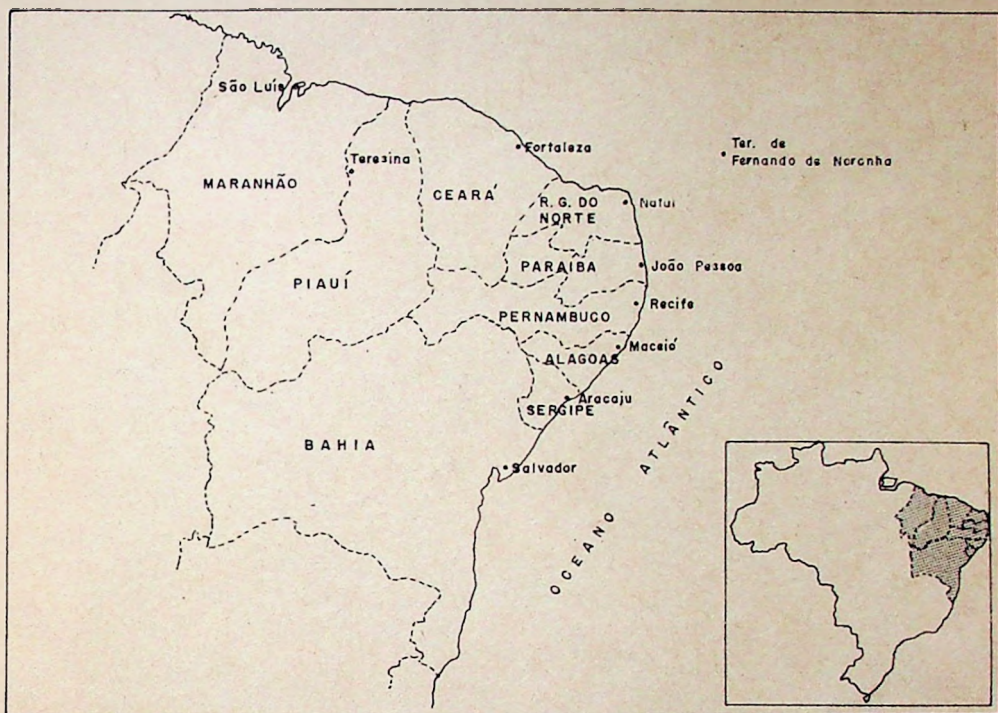
Verifique, no final do Roteiro, o que mais você poderá ler sobre a Região Norte.

REGIÃO NORDESTE



“Vento que balança as faias dos coqueiros,
Vento que encrespa as águas do mar,
Vento que assanha os cabelos da morena,
me traz notícias de lá”.

(G. Chaves).



A Região Nordeste é a que possui o maior número de Estados.

ESTADOS	CAPITAIS
Maranhão _____	São Luís
Piauí _____	Teresina
Ceará _____	Fortaleza
Rio Grande do Norte _____	Natal
Paraíba _____	João Pessoa
Pernambuco _____	Recife
Alagoas _____	Maceió
Sergipe _____	Aracaju
Bahia _____	Salvador

Nessa região também fica o arquipélago de Fernando de Noronha, que é um Território Federal.

A Região Nordeste é muito quente. Há lugares em que chove normalmente e outros em que chove muito pouco. Por isso, o Nordeste apresenta zonas diferentes: o sertão, o agreste e a zona da mata.

— O SERTÃO —

No sertão, pouco chove e o sertanejo tem de enfrentar os duros períodos da seca.

Aí existe a caatinga, uma vegetação que consegue resistir muito tempo sem água. Por exemplo, o xiquexique-do-sertão é um tipo de cactus que armazena água para poder sobreviver à seca.



Nessa zona, são cultivados o sisal (também chamado agave), o algodão e a mamona.

Para que servem o sisal, o algodão e a mamona?

Você pode ler sobre algumas utilidades desses vegetais na página 50 desse Roteiro.

— A ZONA DA MATA —

A zona da mata é a que fica junto ao litoral. Nela estão as mais importantes cidades nordestinas — todas as capitais.

É a zona mais apropriada para a agricultura. Tem um solo fértil e um clima quente e úmido, isto é, com chuvas.

Os portugueses, quando aqui chegaram, iniciaram o plantio de cana-de-açúcar nessa zona.

Hoje, continua a ser uma zona agrícola, mas também é uma área industrial, com a indústria do açúcar e outras.



— O AGRESTE —

Entre a zona da mata e o sertão está o agreste. O clima não é tão úmido quanto no litoral, mas também não é tão seco quanto no interior.

Nessa zona se planta o algodão, o sisal e o abacaxi e cria-se o gado, pois o terreno oferece boas pastagens.



No lugar em que você mora existe problema em relação às chuvas?

Que fazem as pessoas para resolver esses problemas?


As cheias e vazantes dos rios dependem das chuvas. Nas épocas em que chove, os rios crescem. Nas épocas de estiagem (sem chuvas), eles até secam.

Isso acontece com alguns rios da Região Nordeste.

No sertão existem esses rios temporários, isto é, aqueles que só têm água durante o inverno (período das chuvas).

Quando eles secam, o sertanejo faz, no seu leito, a plantação de vazante. Tem de ser plantas de crescimento rápido (feijão, milho, mandioca) para que a colheita seja feita antes da próxima cheia.

Uma das formas de diminuir o problema da seca é a construção de **açudes**. Quando chove muito, as águas dos rios são guardadas em grandes represas. Durante o período de secas, essa água é distribuída através de canais para irrigar a terra.



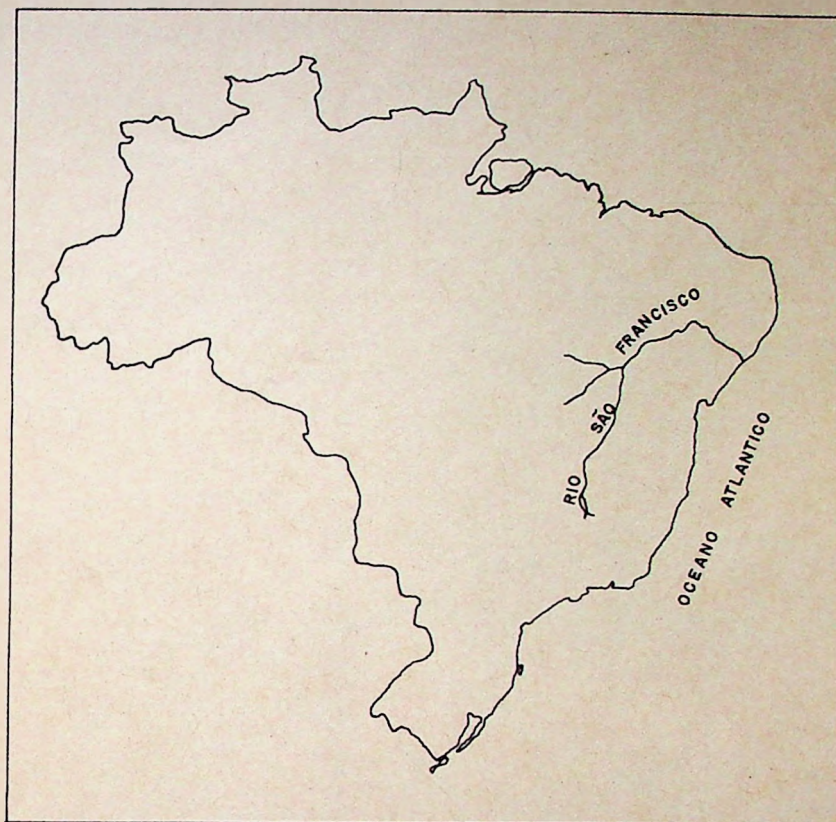
A construção das represas e açudes, em geral, fica muito cara. Por isso, essas obras são feitas com a ajuda do governo.

O açude de Orós, no Ceará, é o maior açude da região.

No lugar onde você mora, como é feita a irrigação da terra?

O leito e as margens dos rios são aproveitados para a agricultura?

Na Região Nordeste existe também um grande rio: o rio São Francisco.



O rio São Francisco tem uma importância muito grande. Ele corta regiões secas do Nordeste.

O São Francisco é longo e navegável. Mas essa navegação não pode ser feita em toda sua extensão por ser um rio que apresenta cachoeiras.

Uma das grandes cachoeiras formadas pelo São Francisco é a cachoeira de Paulo Afonso.

A força das suas águas é aproveitada para produzir energia elétrica. Aí foi construída a **Usina Hidrelétrica** de Paulo Afonso, que produz energia para muitas cidades e indústrias do Nordeste.

As terras do vale do rio São Francisco são boas para a agricultura (milho, mandioca, cebola) e para a criação de gado. É uma região muito extensa, mas pouco povoada por causa da dificuldade de transporte.

Procure, na página 54 desse Roteiro, a indicação de leituras sobre **ENERGIA E PROGRESSO** e usinas hidrelétricas.

Dentre os grandes produtos vegetais encontrados no Nordeste, destacam-se o babaçu, a carnaúba e o cacau.

Nos Estados do Maranhão e Piauí existe uma Zona de Cocais.



No Maranhão, os coqueiros são de babaçu.

O *babaçu* é a maior riqueza natural do Nordeste..

Do coco do babaçu se retira uma gordura vegetal, utilizada na alimentação.



No Piauí, os cocais são de carnaúba.

Da folha da carnaúba prepara-se uma cera que é utilizada na indústria.

Os carnaubais não existem somente no Piauí. Espalham-se pelo Ceará e Rio Grande do Norte.

A parte sul da Bahia é a zona mais úmida do Nordeste. Por isso, aí surgiram as maiores plantações de cacau, de cujas sementes se prepara o chocolate.

O cacau é um produto exportado para outros países, principalmente através do porto de Ilhéus.


O litoral nordestino também contribui para a economia brasileira.

Duas riquezas naturais são exploradas no litoral desta região: o sal e o **pe-
tróleo**.

É na Região Nordeste que se encontra a maior produção de sal do Brasil. As principais **salinas** estão situadas no Rio Grande do Norte.

No litoral da Bahia, Sergipe e Alagoas, técnicos trabalham na extração do petróleo.

O petróleo é fundamental para a vida moderna. Dele se retiram a gasolina, o querosene, o óleo e muitos outros produtos, fontes de energia para as máquinas e meios de transporte.



Também no Nordeste existe um órgão do governo que planeja o desenvolvimento da região — a Superintendência do Desenvolvimento do Nordeste — a SUDENE. Esse órgão coordena a construção de estradas, açudes, canais de irrigação, estimula o surgimento de novas indústrias, possibilitando mais trabalho e melhores condições de vida para um terço da população brasileira que mora nessa região.

.....
Você sabia que . . .

- nos trechos navegáveis do rio São Francisco encontramos algumas barcaças que têm na proa uma cabeça de bicho esculpida em madeira? São as carrancas — para os barqueiros, um bicho que dá sorte.



- os saveiros e as jangadas são embarcações do litoral nordestino?



- o coco, além de ser um fruto muito usado na cozinha nordestina, é o nome de uma dança popular da região?

- o bumba-meu-boi também é uma dança popular dessa região, em que o boi é lembrado como uma figura importante na vida do homem do interior?



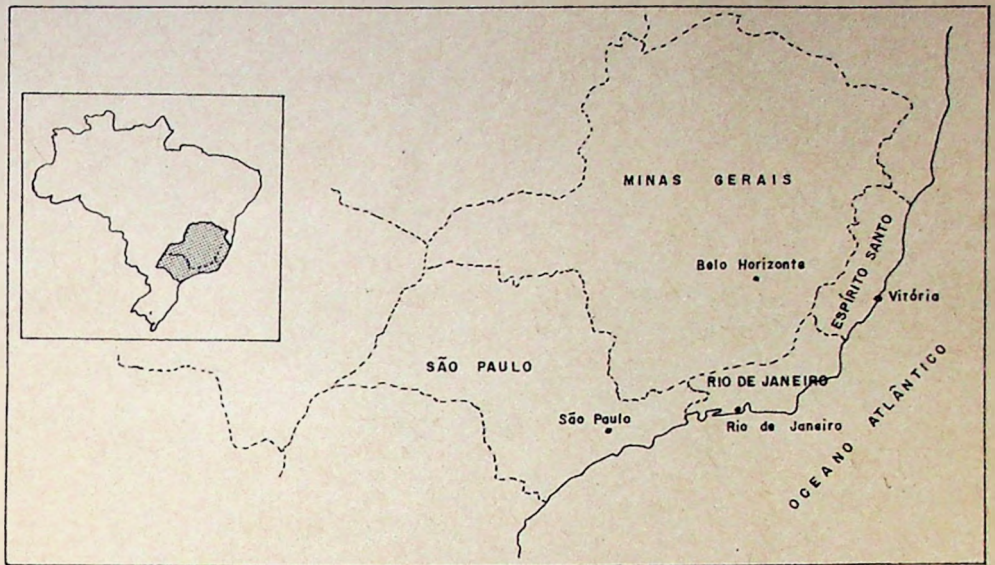
- Recife, capital de Pernambuco, é a mais populosa cidade do Nordeste?
 - Salvador, capital da Bahia, construída em 1549, foi a 1ª capital do Brasil?
 - a Bahia foi o Estado brasileiro que mais recebeu influência africana? Os escravos que ali chegaram ensinaram ao povo a sua comida, música, danças, lendas e religião.
-

Você pode conhecer mais coisas sobre o Nordeste. No final do Roteiro, nas páginas 54 a 59, você encontrará indicação para outras leituras. Para isso, o material do Posto Cultural está à sua disposição.

REGIÃO SUDESTE



"Rio de Janeiro, gosto de você,
Gosto de quem gosta desse céu,
desse mar,
dessa gente feliz . . ."
(Antonio Maria)



Essa é a Região Sudeste. Nela estão os seguintes estados:

ESTADOS	CAPITAIS
Minas Gerais _____	Belo Horizonte
Espírito Santo _____	Vitória
Rio de Janeiro _____	Rio de Janeiro
São Paulo _____	São Paulo

A Região Sudeste tem mais habitantes que qualquer das outras regiões brasileiras e a maioria das pessoas vive nas grandes cidades por causa das indústrias (fábricas).

As três maiores cidades brasileiras — São Paulo, Rio de Janeiro e Belo Horizonte — encontram-se nessa região.

Trabalha-se muito na Região Sudeste . . .

- cultivando a terra,
- criando o gado,
- extraindo as riquezas do solo,
- produzindo nas fábricas,
- vendendo os produtos industrializados no comércio etc.

Veja como isso acontece . . .

— . . .NA AGRICULTURA —

No Sudeste, a agricultura já é trabalhada modernamente. O agricultor trata a terra com adubos, irriga os terrenos, semeia e colhe com máquinas agrícolas.




Encontramos, nessa região, grandes produções de café, cana-de-açúcar, algodão, milho, arroz, verduras e legumes.

Os japoneses que imigraram para o Brasil ajudaram bastante na agricultura da região. Eles trabalham na cultura do arroz e das frutas.

— ...NA PECUÁRIA —

A pecuária, isto é, a criação do gado, também é desenvolvida nessa região.

Além da carne, o gado fornece matéria-prima para a indústria de laticínios (leite, manteiga, queijos) e para a indústria de couro (sapatos, bolsas etc.).



— ...NA EXTRAÇÃO MINERAL —

Você sabe por que o estado de Minas Gerais tem esse nome?

Quando os bandeirantes desbravaram o sertão brasileiro, eles encontraram uma região que tinha minas de ouro e essa região ficou sendo conhecida como as Minas Gerais.

Hoje continua a intensa mineração em Minas Gerais, não mais de ouro, mas de um outro mineral importante — o ferro.

As reservas de minério de *ferro* do Brasil estão entre as maiores do mundo.


O minério de ferro extraído das rochas de Minas Gerais é mandado, principalmente, para:

- a Companhia Siderúrgica Nacional (na cidade de Volta Redonda, no Estado do Rio de Janeiro);
- a COSIPA — Companhia Siderúrgica Paulista.

Esse minério é também exportado para países estrangeiros através do Porto de Tubarão, em Vitória, do porto do Rio de Janeiro e do terminal de minério em Mangaratiba.




Transporte de minério em trem.



Porto de minério

O minério de ferro é levado até as siderúrgicas e portos por enormes trens de minério.

A Estrada de Ferro de Minas a Vitória e a Estrada de Ferro Central do Brasil servem a esse transporte.



Nas *usinas siderúrgicas*, o minério de ferro é tratado e transformado em **ferro** e **aço**.

Esses materiais — o ferro e o aço — são aproveitados nas fábricas para fazer máquinas, motores, peças e outros produtos.

Na fabricação de carros, por exemplo, utilizam-se muitas peças de ferro e aço.

— ...NA INDÚSTRIA E NO COMÉRCIO —

O maior número das indústrias brasileiras está na Região Sudeste. São Paulo e Rio de Janeiro são os maiores centros industriais do país.


Dentre as indústrias importantes dessa região estão essas:

- automobilística (de veículos);
- têxtil (de tecidos);
- de material elétrico (rádios, televisões, geladeiras etc.);
- alimentícia (óleos, massas, biscoitos, doces etc.).

Pense: Por que as indústrias são importantes para o desenvolvimento do país?

As indústrias precisam de energia elétrica para poderem trabalhar.

Na Região Sudeste existem muitas usinas hidrelétricas.



A Usina Três Marias (no Rio São Francisco), em Minas Gerais, e o Sistema de FURNAS (no rio Grande), em Minas Gerais, são algumas das usinas que fornecem energia elétrica para o desenvolvimento da Região.


Os produtos agrícolas e industriais da Região Sudeste são consumidos pelos brasileiros dessa região e de outras regiões também. Além disso, alguns produtos são **exportados** para outros países.

Há necessidade de levar os produtos de um lugar para o outro. Por isso, na Região Sudeste encontram-se muitas ferrovias, rodovias, portos e aeroportos que servem para distribuir a produção.

- A rodovia Presidente Dutra, ligando o Rio de Janeiro a São Paulo, é a rodovia brasileira de maior movimento de transporte de pessoas e cargas.
- O porto do Rio de Janeiro é o maior porto brasileiro de **importação** e o de Santos (no Estado de São Paulo), o maior porto brasileiro de **exportação**.
- Além das linhas nacionais, os aeroportos do Galeão (no Rio de Janeiro) e Viracopos (em São Paulo) têm um grande movimento de linhas internacionais.

Você já sabe que o petróleo é importante para os transportes.

Lembre-se que dele podemos retirar gasolina, óleo etc.



Na Região Sudeste, encontram-se várias refinarias de petróleo: a de Duque de Caxias (no Estado do Rio de Janeiro), a de Cubatão e Paulínia (em São Paulo) etc.



Você sabia que . . .

- a cidade do Rio de Janeiro é conhecida como a "Cidade Maravilhosa" por causa de suas belezas naturais: praias, montanhas, florestas?



Todos os anos a cidade recebe a visita de muitos turistas que vêm conhecer as praias de Copacabana, Ipanema, os morros do Pão-de-Açúcar e Corcovado, a Floresta da Tijuca, ou divertir-se em seu famoso Carnaval.

- São Paulo surgiu há mais de 400 anos atrás, mas começou a desenvolver-se no século passado graças ao cultivo do café — a grande riqueza do Estado?
- há pouco tempo, descobriu-se a existência de petróleo no litoral do Estado do Rio de Janeiro, no município de Campos e, agora, tem sido pesquisada a sua exploração?



Você ficou sabendo muita coisa nova sobre a Região Sudeste?

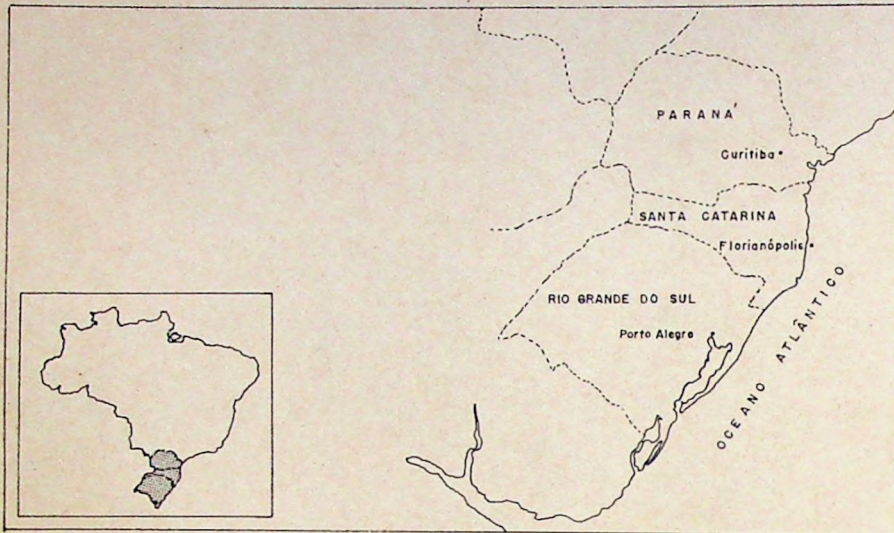
No final desse Roteiro, nas páginas 54 a 59, há listas de material que você pode consultar para saber ainda mais.



Ai bota aqui, ai bota ali o seu pezinho.
O seu pezinho, bem juntinho com o meu . . .

(Folclore Popular)

A Região Sul possui apenas três Estados: Paraná, Santa Catarina e Rio Grande do Sul.




Em tamanho, ela é a de menor área do país.

Essa região foi a escolhida pelos **imigrantes** europeus porque seu clima é parecido com o clima da Europa. No sul, é mais frio que em outros lugares do Brasil.

Os imigrantes trouxeram seus conhecimentos de lavoura e pecuária e, com isso, ajudaram o progresso do nosso país.

As cidades de Novo Hamburgo (no Rio Grande do Sul) e Joinville (em Santa Catarina) foram fundadas por imigrantes alemães. Os tipos das casas, a alimentação e costumes dos habitantes dessas cidades mostram a influência desses imigrantes.



Hoje, já não chegam tantos imigrantes, mas a região continua contribuindo muito para o desenvolvimento do país, destacando-se na agricultura, na pecuária e na extração vegetal.

— NA AGRICULTURA —

Na Região Sul, a produção agrícola cresce a cada dia.

Estudam-se novas maneiras de melhorar o solo e a qualidade dos produtos. A agricultura é mecanizada, isto é, utilizam-se máquinas para arar a terra, semear, colher.

Essa região é grande produtora de arroz, trigo, soja, fumo, algodão, cana-de-açúcar e milho, sendo o seu maior produto agrícola o café.

O Estado do Paraná é o maior produtor de café do Brasil.

O clima da região também é bom para o cultivo das frutas.

Os imigrantes italianos se dedicaram ao cultivo da uva e ao fabrico do vinho.

Você sabe como é feito o vinho?

Leia sobre isso na página 50 desse Roteiro.

O grande desenvolvimento agrícola dessa região se deve, também, ao transporte. A Região Sul abastece com seus produtos as outras regiões brasileiras, por terra, através de ferrovias e rodovias, e por mar.

— NA PECUÁRIA —

O melhor rebanho do Brasil está na Região Sul.

Além do gado bovino (de bois) e suíno (de porcos), encontra-se o gado ovino (de ovelhas).

Por isso, nessa região são grandes as indústrias que vivem da **matéria-prima** fornecida pela criação de gado: indústria de couro, indústria alimentícia e fábricas de tecidos de lã.

Responda: Como se consegue a lã? _____

Para que ela serve? _____

— NA EXTRAÇÃO VEGETAL —

Na Região Sul, especialmente no Paraná, encontra-se um grande centro de exploração de madeiras.

Os tipos de madeira mais comuns são o pinho, o cedro e a imbuia. Além de serem distribuídos para os principais centros do país, são, também, exportados para outros países.

Outro produto extrativo muito importante, nessa região, é a erva-mate.



Você sabia que . . .

- a capital de Santa Catarina, Florianópolis, fica situada numa ilha?
- na fronteira entre o Brasil e o Paraguai, através de um acordo entre esses dois países, está sendo construída a maior hidrelétrica do mundo que fornecerá mais energia para os dois países? É a usina de Itaipu, no rio Paraná.
- o rio Paraná e seus afluentes formam muitas quedas d'água? As duas principais quedas d'água da Bacia do Paraná são:

— o Salto das Sete Quedas (formado pelo rio Paraná, na fronteira com o Paraguai) e

— as Cataratas do Iguaçu (formadas pelo rio Iguaçu, na fronteira com a Argentina).

- na cidade de Caxias do Sul, grande produtora de uva e fabricante de vinho, realiza-se na época da colheita, a Festa da Uva?
- com a erva-mate, os gaúchos, isto é, os habitantes do Rio Grande do Sul, fazem chimarrão, uma bebida amarga e quente muito apreciada nesse Estado?



Você gostaria de conhecer mais sobre a Região Sul do Brasil?

Verifique, nas páginas 54 a 59 desse Roteiro, a indicação de outras leituras que você poderá fazer.

REGIÃO CENTRO-OESTE



“Vai boiadeiro, que a noite já vem,
Leva o seu gado e vai pra junto do seu bem . . .”

(Luiz Gonzaga)

Observe no mapa do Brasil onde está situada a Região Centro-Oeste.



Essa é a única região brasileira que não é banhada pelo mar.

A região possui somente 2 Estados: Mato Grosso e Goiás.

Na Região Centro-Oeste está localizada a capital do país.

BRASÍLIA — A CAPITAL DO PAÍS

A principal preocupação dos governos era a falta de povoamento do centro do país. No litoral encontravam-se as maiores cidades e a maioria da população brasileira.



Em 1956, o governo planejou a mudança da capital para o centro do país.

O início foi muito difícil. Porém, hoje, Brasília é uma das mais famosas cidades do mundo.

Brasília é uma cidade moderna.

Suas ruas, suas casas, edifícios e bairros foram planejados antes da sua construção.

A cidade foi inaugurada em 21 de abril de 1960.



Lá vivem pessoas de todos os lugares do Brasil. Ela foi construída com o esforço de muitos brasileiros.

Em Brasília fica a sede do Governo do Brasil.

Você, ao observar a Região Centro-Oeste no mapa do Brasil, pôde verificar como essa região é grande.

No entanto, ela é pouco povoada.

Algumas pessoas vivem nas cidades. Outras preferem a zona rural, onde plantam, criam gado. Ainda existem outras pessoas que vivem procurando as riquezas do solo e das florestas.

O índio foi o primeiro habitante da Região Centro-Oeste. Ainda hoje, ele é parte da população.

A atividade mais importante na região é a pecuária (criação de gado). Esse gado é destinado ao corte, isto é, sua carne será aproveitada na alimentação.

Ele vive solto nos grandes campos existentes na região.

No Estado de Mato Grosso, encontram-se muitas fazendas de gado.

No Estado de Goiás, a agricultura é mais desenvolvida. Cultiva-se principalmente o arroz. O café, o milho, a cana-de-açúcar, a mandioca e o amendoim também são cultivados, porém em menor quantidade do que nas outras regiões.



Você sabia que . . .

- um dos trabalhos na Região Centro-Oeste é o do garimpeiro? Ele trabalha com peneiras, procurando ouro e pedras preciosas à beira de certos rios.



No final desse Roteiro, você encontrará indicações de leituras sobre a Região Centro-Oeste.

QUEM CUIDA DO BRASIL?

Você aprendeu que o Brasil é muito grande e está dividido em Estados, Territórios e Municípios.

Para cuidar desse país tão grande, existem o Governo Federal, para todo o país, os governos estaduais, territoriais e municipais.

Em cada um desses governos existem 3 poderes:

PODER EXECUTIVO — que administra de acordo com as leis.

PODER LEGISLATIVO — que faz as leis.

PODER JUDICIÁRIO — que fiscaliza o cumprimento das leis.

Vamos ver quem exerce o PODER EXECUTIVO no país, Estados, Territórios e Municípios.

GOVERNO
FEDERAL

GOVERNO ESTADUAL
E TERRITORIAL

GOVERNO
MUNICIPAL

Presidente da
República
Ministros

Governador
Secretários

Prefeito
Secretários

É importante conhecer as pessoas que governam seu País, seu Estado ou Território, seu Município.

Escreva os nomes:

do Presidente da República; _____

do Governador do Estado ou Território onde você mora; _____

do Prefeito de seu Município. _____

O Presidente da República, os Governadores, os Prefeitos e auxiliares não governam sozinhos. A responsabilidade é dividida.

O Presidente da República, por exemplo, antes de resolver os problemas do país, ouve a opinião dos seus Ministros e, também, dos Senadores e Deputados, que fazem parte do PODER LEGISLATIVO.

Conheça os órgãos do Poder Legislativo do País, dos Estados e Municípios:

- o Congresso Nacional, composto pela Câmara de Deputados e Senado. Esse é o Órgão Federal.
- a Assembléia Legislativa, formada pelos Deputados Estaduais.
- a Assembléia Municipal, formada pelos Vereadores.

O PODER JUDICIÁRIO tem como órgão mais importante o Supremo Tribunal Federal. No Governo Federal, Estadual e Municipal, o Poder Judiciário é exercido através dos tribunais e juízes.

Mas só as pessoas do Governo cuidam do país?

O Governo não pode realizar tudo sozinho. Povo e Governo são responsáveis pelo país em que vivem.

Cada brasileiro tem uma participação muito importante na escolha daqueles que vão exercer o governo. Essa participação se faz através do voto.

De tempos em tempos, são realizadas eleições para escolherem os prefeitos, vereadores, governadores, senadores, deputados e presidente.

• Com que idade as pessoas se tornam eleitoras? _____

• O que é preciso para ser eleitor? _____

• No lugar em que você mora, onde se pode tirar o título de eleitor? _____

Se você não souber responder a essas perguntas, procure informar-se com seus amigos ou pergunte ao encarregado do Posto do MOBREAL.

O Brasil precisa de todos nós.

Lembre-se que: quando cada brasileiro realiza bem o seu trabalho, orienta sua família, procura, como você, conhecer mais sobre o país onde vive, está também cuidando do Brasil.

Com a leitura desse Roteiro, você passou a conhecer mais o Brasil.

Verificou em que Região fica seu Estado ou Território e o que há de importante nela.

Informou-se sobre outras Regiões, seus Estados e o que produzem.

Soube como o Brasil, os Estados e os Municípios são governados.

Mas podemos ler e aprender mais.

No Posto Cultural, você pode encontrar outros materiais para continuar seus estudos.

Respostas às perguntas feitas neste Roteiro:

Página 6 — Os países vizinhos do Brasil são: Guiana Francesa, Suriname, Guiana, Venezuela, Colômbia, Peru, Bolívia, Paraguai, Argentina e Uruguai.

O nosso país é banhado pelo Oceano Atlântico.

Página 18 — São produtos fabricados com borracha:

- os pneus e câmaras-de-ar dos carros, caminhões e ônibus;
- as solas de alguns sapatos;
- alguns tipos de sandálias, botas e sapatos;
- as correias das máquinas;
- as mangueiras ou borrachas para molhar os jardins etc . . .

Página 24 — Do sisal se extrai uma fibra para a fabricação de cordas e tapetes.
Do algodão se aproveita a fibra para a fabricação de tecidos e também se faz o óleo de algodão.
Do fruto da mamona se prepara um óleo muito fino, que é aproveitado na indústria.

Página 41 — Depois de colhidas as uvas, na época em que estão maduras, elas são levadas para as adegas — lugar em que serão pisadas ou esmagadas. Separa-se então o suco que fermenta — o vinho. Esse vinho é armazenado e conservado durante muito tempo em pipas, antes de ser engarrafado.

Esses exercícios foram aqui colocados para ajudar você a pensar sobre os assuntos desse Roteiro.

Faça-os com vontade de aprender mais!

1. Fale sobre a localização do Brasil no mundo.

2. Você leu que moram mais brasileiros no litoral do que no interior. Por que isso aconteceu?

Pense e escreva sobre algumas vantagens de morar no interior.

3 . Por que os rios brasileiros são importantes?

4 . Em que região fica o Estado onde você mora?

Quais são outros Estados de sua Região?

5 . Diga o que você aprendeu sobre:

a Região Norte;

a Região Nordeste;

a Região Sudeste;

a Região Sul;

a Região Centro-Oeste.

Quando você se inscreveu no Programa de Autodidatismo, ganhou os livros BOA PERGUNTA e PARA SUA INFORMAÇÃO.

Neles, você encontra outras informações referentes aos assuntos estudados nos Roteiros.

Aqui estão algumas indicações para você ler mais sobre o BRASIL, O PAÍS ONDE VOCÊ VIVE!

BOA PERGUNTA

ASSUNTO DO ROTEIRO	LER SOBRE	PÁGINA
Onde mora a população brasileira?	Gente, cada vez mais gente!	112
Região Norte	O Seringueiro	124
	Integração Nacional	101
Região Nordeste	Bumba-meu-boi	54
	Mestre Vitalino	60
Região Sudeste	Energia = Progresso	80
	Industrialização	78
	O operário	132
	Carnaval	52
Região Sul	O mineiro	128
Região Centro-Oeste	O peão	126
Quem cuida do Brasil?	Nosso País	102
	A Pátria	104

PARA SUA INFORMAÇÃO

ASSUNTO DO ROTEIRO	LER SOBRE	PÁGINA
Onde está o Brasil?	Oceano	67
Brasil, um país tropical.	Irrigação	57
Onde mora a população brasileira?	Litoral	59
Região Norte	Afluente	6
	Bacia Hidrográfica	15
	Seringueiro	86
	Látex	58
Região Nordeste	Açude	5
	Usina Hidrelétrica	95
	Petróleo	71
	Salina	84
Região Sudeste	Ferro	44
	Aço	5
	Usina Siderúrgica	95
	Importação	52
	Exportação	42
Região Sul	Exportar	42
	Imigrante	52
	Matéria-prima	60

VÁ AO POSTO CULTURAL:

Consulte os materiais e conheça mais sobre o BRASIL, O PAÍS ONDE VOCÊ VIVE.

Aqui estão algumas indicações de assuntos que você pode encontrar nos livros do Posto Cultural.

NOSSO MUNDO

ASSUNTO DO ROTEIRO	LER SOBRE	PÁGINA
Onde está o Brasil?	O meio em que vivemos. Brasil: uma nação-continente.	26 e 27 95 e 96
Região Norte	Os três territórios. Bacias hidrográficas. Estradas fluviais.	88 a 94 46 a 48 39 e 40
Região Nordeste	Riquezas do mar. Usina de Paulo Afonso. Açudes/Irrigação.	31 e 32 43 e 44 45
Região Sul	A caminho do Sul. Usinas hidrelétricas	80 a 87 41 a 43

ROTEIRO DE CONHECIMENTOS

ASSUNTO DO ROTEIRO	LER SOBRE	PÁGINA
Brasil, um país tropical.	Toda beleza do mundo entre o Amazonas e o Rio Grande do Sul.	148 e 149
Região Norte	Turismo, o Progresso chegou à Região Amazônica.	152 e 153
Região Nordeste	Petróleo. Indústrias/Norte e Nordeste Turismo/Nordeste de Sol, de praias, de coqueiros.	52 a 67 144 e 145 154 e 155
Região Sudeste	Exportação: Minérios, fibras, madeiras, alimentos. Indústrias/Siderurgia. Indústrias/Energia Elétrica. Turismo/Em São Paulo só os visitantes descansam.	30 e 31 136 e 137 138 e 139 150 e 151
Região Sul	Indústrias/Estradas Indústrias/Sudeste e Sul Turismo/O sul das tradições, dos vinhos e trigais.	140 e 141 146 e 147 160 e 161
Região Centro-Oeste	Turismo/Sudeste e Centro-Oeste são uma síntese de todo o Brasil.	156 a 159

LIVRO TEXTOS

ASSUNTO DO ROTEIRO	LER SOBRE	PÁGINA
Como conhecer o Brasil.	Um Grande País. Divisão Regional do Brasil.	2 e 3 4
Região Norte	A Estrada da Integração Nacional. Um trabalhador da Floresta.	18 53
Região Nordeste	Duas maravilhas da Natureza. As Estradas Líquidas. A irrigação para substituir a chuva. As Forças que movem o Mundo.	6 10 44 47
Região Sudeste	A maior cidade do Brasil. As riquezas circulam pelos portos.	9 20 e 21
Região Sul	As uvas estão no sul.	30
Região Centro-Oeste	As três capitais do Brasil.	5
Quem cuida do Brasil	O Direito de Escolher Ordem e Progresso. As Forças Armadas Protegem o País.	63 69 72

BRASIL, TURISMO E VOCÊ

ASSUNTOS DO ROTEIRO	LER SOBRE	PÁGINA
Região Norte	Amazônia	53
Região Nordeste	Feiras	10

QUEM LÊ VAI LONGE

ASSUNTOS DO ROTEIRO	LER SOBRE	PÁGINA
Quem cuida do Brasil.	Título Eleitoral	5

ENCICLOPÉDIA "A AVENTURA DO HOMEM"

ASSUNTOS DO ROTEIRO	LER SOBRE	VOLUME DA ENCICLOPÉDIA	PÁGINA
Onde está o Brasil?	- A Terra.	1	16 e 17
	- A divisão do mar.	21	6 e 7
Região Norte	- Rondon plantou postes na Floresta Amazônica.	3	22 e 23
	- O Índio Brasileiro.	7	6 a 9
	- Círio de Nazaré: Tradição do Pará.	8	18 e 19
	- Como nasceu a Vitória-Régia.	8	27
	- Um caule que fez o mundo andar mais rápido . . .	12	8 e 9
Região Nordeste	- Cerâmica de enfeitar	7	14 e 15
	- As Carrancas do São Francisco.	7	16 e 17
	- Baianas e Vaqueiros	7	28 e 29
	- Bumba-meu-Boi	8	8 e 9
	- A Festa do Bonfim	8	20 e 21
	- Um mineral que se come . . .	13	24 e 25
	- Nova riqueza para o Brasil: Petróleo — O Ouro Negro.	13	29
	- O Brasil e o Petróleo.	24	28 e 29
	- A Seca: Problema a Resolver.	14	8 a 11
	- Rios: Estradas Líquidas, Fontes de Energia.	14	16 e 17
	- Cacau.	15	29
Região Sudeste	- O ouro e o Brasil	13	18 e 19
	- Usinas Siderúrgicas: Base para o Brasil crescer.	13	28
	- Um mineral líquido: de beber e de dar energia.	13	26 e 27
	- Onde fica a nossa indústria.	16	24 e 25
Região Sul	- Danças gaúchas: Coisa linda de ver . . . música gostosa de cantar . . .	8	14 e 15
	- Árvores brasileiras.	12	28 e 29
	- Ajudando o solo a produzir mais.	14	14 e 15
	- Produções de nosso País.	15	16 e 17

CONSULTAS

ASSUNTO DO ROTEIRO	LER SOBRE	PÁGINA
Onde está o Brasil?	Quilômetros	37
	Fronteira	21
Brasil - Um País Tropical.	Climas	10
	Usinas Hidrelétricas	46
	Neve	32
Onde mora a população brasileira?	Distrito Federal	14
	Estados	17
	Territórios	44
	Litoral	28
Região Norte	Acre	2
	Amazonas	3
	Pará	33
	Amapá	3
	Roraima	40
	Rondônia	40
	Indústria	25
	Fibras	20
	Afluentes	2
	Região Amazônica	38
	Aquática	5
Região Nordeste	Maranhão	29
	Piauí	35
	Ceará	9
	Rio Grande do Norte	39
	Paraíba	33
	Pernambuco	34
	Alagoas	3
	Sergipe	42
	Bahia	8
	Fernando de Noronha	19
	Irrigação	27
	Quedas d'água	37
	Extração	19
	Lendas	28
Região Sudeste	Minas Gerais	31
	Espírito Santo	17
	Rio de Janeiro	39
	São Paulo	41
	Mineração	31
Região Sul	Paraná	33
	Santa Catarina	40
	Rio Grande do Sul	39
Região Centro-Oeste	Mato Grosso	29
	Goiás	23

Você acabou de estudar o assunto: Brasil, país onde você vive.

Esperamos que tenha gostado e que tudo tenha sido muito útil para a sua vida. Procure, agora, responder a estas perguntas.

Elas são importantes para você e para nós, também.

Suas respostas nos ajudarão a conhecer alguma coisa sobre você e, também, a saber o que vai ser preciso melhorar no material que estamos oferecendo.

1. Seu nome: _____

2. Seu município: _____

3. Seu estado ou território: _____

4. Qual é a sua ocupação? _____

5. Marque com um X dentro do quadrado, a sua resposta:

Você é:

- alfabetizador do MOBREAL
- ex-aluno de Alfabetização Funcional
- aluno de Educação Integrada
- professor de Educação Integrada
- uma pessoa da comunidade

6. O que você leu e estudou foi importante para você?

SIM

NÃO

Por quê? _____

7. Existe ainda alguma coisa que você gostaria de saber sobre o assunto?

SIM

NÃO

Se a sua resposta for **SIM**, diga o que você gostaria de saber.

8. Você teve dificuldade para compreender o que está escrito nesse Roteiro?

SIM

NÃO

Se a sua resposta for **SIM**, diga em que assuntos isso aconteceu.

9. Se você tem ainda alguma coisa para nos dizer, escreva aqui.

FAÇA AQUI SUAS ANOTAÇÕES

FAÇA AQUI SUAS ANOTAÇÕES

AUTORIA
Gerência Pedagógica — GEPED

ELABORAÇÃO
Carmen Perrotta
Manoel Luis Martins de Oliveira

COLABORAÇÃO
Sergio Pinheiro Guerra
Ana Maria Soares da Cunha Barbosa

SUPERVISÃO
Adélia Maria Nehme Simão e Koff
Heloisia Meira Coelho Melhado

ILUSTRAÇÃO
Everaldo Pinto da Silva Junior

PROGRAMAÇÃO VISUAL
GERAP-SETED



Reprodução, Impressão e Acabamento.
AGGS INDÚSTRIAS GRÁFICAS S/A
Rua Luís Câmara, 535 — Rio de Janeiro